

Развитие элементарных математических способностей

Решение задач

Решите примеры (найдите неизвестное) и к двум из них придумайте задачи.

| | | | | |
|----------|----------|----------|----------|----------|
| 3 | . | 4 | = | 7 |
|----------|----------|----------|----------|----------|

| | | | | |
|----------|----------|----------|----------|----------|
| . | + | 6 | = | 8 |
|----------|----------|----------|----------|----------|

| | | | | |
|----------|----------|----------|----------|----------|
| 8 | - | 5 | = | . |
|----------|----------|----------|----------|----------|

| | | | | |
|----------|----------|----------|----------|----------|
| 7 | + | . | = | 9 |
|----------|----------|----------|----------|----------|

| | | | | |
|-----------|----------|----------|----------|----------|
| 10 | . | 8 | = | 2 |
|-----------|----------|----------|----------|----------|

| | | | | |
|----------|----------|----------|----------|----------|
| 3 | - | 3 | = | . |
|----------|----------|----------|----------|----------|

| | | | | |
|----------|----------|----------|----------|----------|
| 1 | + | 8 | = | . |
|----------|----------|----------|----------|----------|

| | | | | |
|-----------|----------|----------|----------|----------|
| 11 | - | 3 | = | . |
|-----------|----------|----------|----------|----------|

| | | | | |
|----------|----------|----------|----------|----------|
| 5 | . | 2 | = | 7 |
|----------|----------|----------|----------|----------|

| | | | | |
|----------|----------|----------|----------|----------|
| . | - | 5 | = | 0 |
|----------|----------|----------|----------|----------|

Уменьшение и увеличение числа на 1 (числа от 6 до 10)

★ Уменьши каждое число на 1 и запиши в пустой клеточке нужное число.

$\square \leftarrow 10$

$\square \leftarrow 9$

$\square \leftarrow 8$

$\square \leftarrow 7$

★ Увеличь каждое число на 1 и запиши в пустой клеточке нужное число.

$6 \rightarrow \square$

$7 \rightarrow \square$

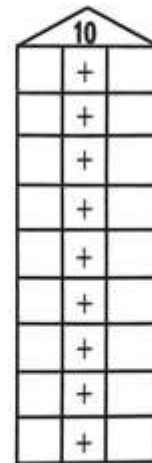
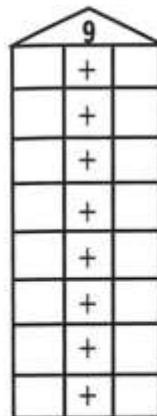
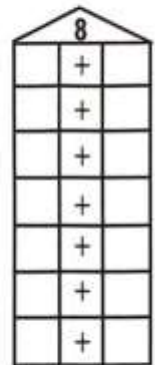
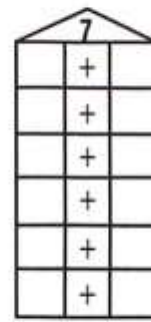
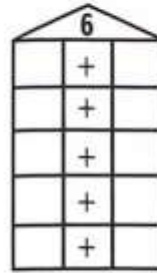
$8 \rightarrow \square$

$9 \rightarrow \square$

38

Состав чисел 6, 7, 8, 9, 10

★ Запиши в домиках состав каждого числа.



39

Закрепление представления о монетах

В день города Санкт-Петербурга проводится праздник ДЕНЬ МОРОЖЕНОГО. Одно мороженое стоит 7 рублей. Сколько порций мороженого можно купить на эти деньги?
Соберите группы по 7 рублей

